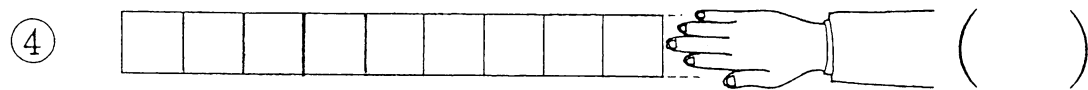
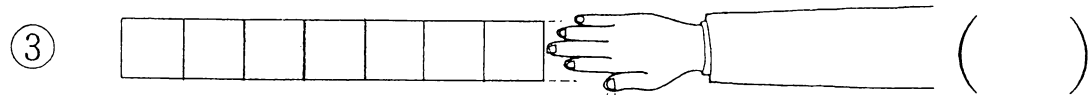
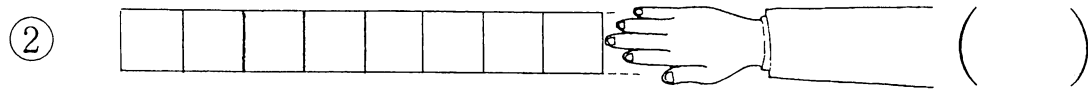
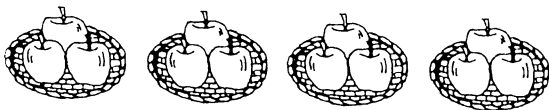


10のうち、ゆびでかくしている^{かず}数は、いくつでしょう。



つぎの^えみ^みを見て、かけ算の式で書いてみましょう。



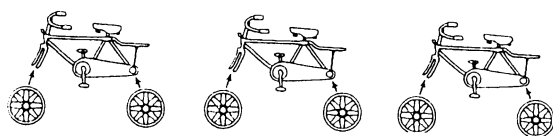
1 さらの

りんごのかず

さらのかず

りんごのかず

$$\square \times \square = \square$$



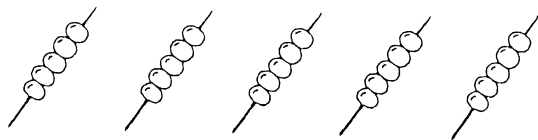
1 だいの

タイヤのかず

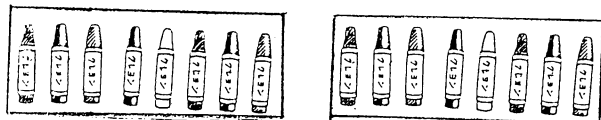
じてんしゃのかず

タイヤのかず

$$\square \times \square = \square$$



$$\square \times \square = \square$$



$$\square \times \square = \square$$

