

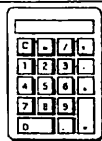
サイコロであそぼう

よういするもの

・サイコロ



・電卓



あわせていくつ







★サイコロをふって、出た目をかぞえて数字で書きましょう。

かい 回	1 回目	2 回目	3 回目	4 回目	5 回目
目の かず					

★出た目の数をたすと、ぜんぶでいくつになりますか？

電卓を使って計算してみましょう。

1 回目 2 回目 3 回目 4 回目 5 回目 あわせて


 +
 
 +
 
 +
 
 +
 
 =
 

ゲームをしよう

★うちの人や友達ときょうそうしてみましょう。

なまえ 名前	回	1 回目	2 回目	3 回目	ごうけい 合計	じゅんい 順位



3回サイコロをふって、出た目の合計の多い人が勝ちだよ。
電卓を使って計算してね

※おうちの方へ

・合計が少ない順とか、10に近い方が勝ちとか、ルールをいろいろ変えてみても楽しいと思います。